

## Ответы: ВПР по географии 8 класс

1

1.1.



1 – Финляндия    2 – Китай    3 – Польша    4 – Азербайджан



Правильный ответ должен содержать следующие элементы:

1) подписи названий стран под рисунками: 1 – Финляндия; 2 – Китай; 3 – Польша; 4 – Азербайджан;

2) вписанные номера стран на схеме

1.2. Китай.

Если за выполнение задания 1.1 выставлено 0 баллов, результат выполнения данного задания не засчитывается

2-5

2.1.

А – Крымский полуостров

Б – остров Сахалин

В – пролив Карские Ворота

Г – Баренцево море

2.2. Правильный ответ должен содержать следующие элементы:

1) точку К на карте (крайняя северная **островная** точка России на меридиане  $143^\circ$  в.д.);

2) координаты точки К:  $76^\circ$  с.ш.  $143^\circ$  в.д.;

3) расстояние от точки N до точки К: 3228 км

3.1. Правильный ответ должен содержать заполненную схему с вписанными в неё географическими названиями форм рельефа.



3.2. Правильный ответ должен содержать следующие элементы:

- 1) запись названия географического объекта: горы Сихотэ-Алинь;
- 2) указание цифры, обозначающей объект на карте: 3

3.3. 234 (в любой последовательности)

Если за выполнение задания 3.2 выставлено 0 баллов, результат выполнения данного задания не засчитывается

4.1. Правильный ответ должен содержать заполненную таблицу с вписанными в неё названиями рек.

Бассейн Северного Ледовитого океана	Внутренний бессточный бассейн	Бассейн Атлантического океана
Обь Колыма	Ока Урал	Нева Дон

4.2. Правильный ответ должен содержать следующие элементы:

- 1) запись названия реки: Ока;
- 2) указание цифры, которой обозначена река на карте: 4

4.3. Правильный ответ должен содержать следующие элементы:

- 1) падение реки: 157 м;
- 2) уклон реки: 10,5 см/км.

Если за выполнение задания 4.2 выставлено 0 баллов, результат выполнения данного задания не засчитывается

5.1. А – умеренный / муссонный

Б – субарктический

5.2. Правильный ответ должен содержать следующие элементы:

- 1) указание климатограммы: А;
- 2) заполненную таблицу с климатическими показателями:

Средняя температура воздуха, °С		Годовая амплитуда температур, °С	Годовое количество осадков, мм	Месяц, на который приходится наибольшее количество осадков
в январе	в июле			
–21	+21	42	684	август

При определении средних температур допускается погрешность в 1 °С

5.3. 146 (в любой последовательности)

6




6.1. Правильный ответ должен содержать следующие элементы:

- 1) указание в таблице названий городов – опорных точек маршрута:

Опорная точка маршрут	А	Б	В
Название города	Хабаровск	Петрозаводск	Москва

- 2) подписи городов на карте

6.2. Правильный ответ должен содержать изображение авиабилета с заполненными пропусками

	
 город <u>Хабаровск</u>	 город <u>Петрозаводск</u>
Время вылета – 10:00	Время прилёта – <u>11:00</u>
Расчётное время полёта – 8 часов	
	

6.3. Правильный ответ должен содержать ответ на вопрос: природные зоны – тайга, смешанные леса.

7

7.1. 3241

7.2. Правильный ответ должен содержать ответы на два вопроса:

- 1) Республика Ингушетия и Красноярский край (в любой последовательности)
- 2) Забайкальский край